

## Dějepisná soutěž – školní kolo

1) Jste v antickém Římě. Kdo z těchto čtyř mužů nepatří do prvního triumvirátu: Caesar, Octavianus, Pompeius, Crassus?

.....

2) Seřadte chronologicky správně události husitského hnutí: a) defenestrace, b) Basilejská kompaktáta, c) Čáslavský sněm, d) upálení Jana Husa, e) bitva u Lipan

.....

3) Druhá světová válka: a) uveďte měsíc a rok atentátu na Heydricha .....

b) co znamená označení Den D-operace Overlord? Uveďte alespoň rok události

.....

4) Stoletá válka: a) které dvě země především tuto válku vedly? .....

b) která z uvedených bitev se odehrála v rámci této války? – a) bitva na Moravském poli, b) bitva u Poitiers, c) bitva u Kreščaku, d) bitva u Slavkova e) bitva u Moháče

.....

5) Seřadte chronologicky za sebou naše panovníky: a) Karel IV, b) Marie Terezie, c) Zikmund Lucemburský, d) Přemysl Otakar I., e) Rudolf II., f) Vladislav Jagellonský, g) Vladislav II.

.....

.

6) Vysvětlete pojmy: a) numismatika..... b) ostrakismus.....

c) neolit..... d) oppidum.....

7) Uveďte rok události: a) konec 1. světové války....., b) Vymření Přemyslovců po meči....., c) bitva na Bílé hoře....., d) Mnichovská dohoda....., e) Sametová revoluce u nás....., f) založení Karlovy univerzity....., g) příchod Konstantina a Metoděje na Velkou Moravu.....

8) Uveďte panovníka dané země, který je s uvedenou událostí spojován: a) založení prvního biskupství v Čechách....., b) zrušení nevolnictví u nás....., c) začátek Velké francouzské revoluce....., d) ustanovení nové anglikánské církve v Anglii.....

9) Která z následujících událostí není spojena se jménem Karla IV.: a) stavba hladové zdi; b) založení arcibiskupství; c) první ražba pražského groše; d) získání titulu markrabě moravský

.....

10)Která událost českých dějin je spojována s tímto datem: a)1948....., b) 1415....., c) 1310....., d) 1526....., e)1918....., f) 935....., g) 1085.....

11)Následující citace je z významného dokumentu vztahujícího se k našim dějinám. Uveďte: a)jak tento dokument obecně nazýváme.....; b)z kterého je roku.....; c)kterého českého panovníka se týká.....

**F**ridrich, z boží milosti římský císař volený, vždy rozmnožitel říše, král sicilský, vévoda apulský a kníže kapujský.

Poněvadž ozdoba a moc císařská předchází náš stav, že nejen hodnosti ostatních knížat, nýbrž i královská žezla uděluje naše velebnost, pokládáme za slavnou a velikou věc, že v tak velikém dobrodiní naší štědrosti i jiným vzrůstá rozmnožení královské důstojnosti a že tím naše vznešenost netrpí nijakou újmou.

Proto my přihlízejíce k přeslavným službám oddanosti, které veškerý lid český od dávného času věrně i oddaně prokazoval císařství římskému a že jasný král jejich Otakar od začátku mezi jinými knížaty zvláště před ostatními nás zvolil císařem a při naší volbě ustavičně a užitečně setrval: jako náš milý strýc, dobré paměti král Filip, poradiv se se všemi knížaty, svým privilegiem ustanovil, i my jej králem ustanovujeme a potvrzujeme a tak posvátné a důstojné ustanovení schvalujeme a království České štědrě a beze všeho vymáhání peněz i obvyklé spravedlnosti našeho dvora jemu a jeho nástupcům navěky propůjčujeme: chtějíce, aby kdokoliv od nich bude zvolen králem, k nám nebo našim nástupcům přijel a náležitým způsobem odznaky královské přijal. /.../

12.Jak se přesně nazývá níže uvedený dokument, který vydala skupina československých občanů v 70.letech?

Dne 13.10.1976 byly ve Sbírce zákonů ČSSR (č. 120) zveřejněny "Mezinárodní pakt o občanských a politických právech" a "Mezinárodní pakt o hospodářských, sociálních a kulturních právech", které byly jménem naší republiky podepsány v roce 1968, stvrzeny v Helsinkách roku 1975 a vstoupily u nás v platnost dnem 23. 3. 1976. Od té doby mají naši občané právo a náš stát povinnost se jimi řídit.

Svobody a práva, jež tyto paktů zaručují, jsou důležitými civilizačními hodnotami, k nimž v dějinách směřovalo úsilí mnoha pokrokových lidí, a jejichž uzákonění může významně pomoci humánnímu rozvoji naší společnosti. Vítáme proto, že ČSSR k těmto paktům přistoupila.

Jejich zveřejnění nám ale s novou naléhavostí připomíná, kolik základních občanských práv platí v naší zemi zatím - bohužel - jen na papíře.

Zcela iluzorní je např. právo na svobodu projevu, zaručované článkem 19 prvního paktu.

Desítkám tisíc našich občanů je znemožněno pracovat v jejich oboru jen proto, že zastávají názory odlišné od názorů oficiálních. Jsou přitom často objektem nejrozmanitější diskriminace a šikanování ze strany úřadů i společenských organizací; zbaveni jakékoli možnosti bránit se, stávají se prakticky obětí apartheidu.

Statisícům dalších občanů je odpírána "svoboda od strachu" (preambule prvního aktu), protože jsou nuceni žít v trvalém nebezpečí, že projeví-li své názory, ztratí pracovní a jiné možnosti. /.../

13.Která z následujících osobností pronesla níže uvedený výrok?

- a) Jan Masaryk
- b) Tomáš Garigue Masaryk
- c) Eduard Beneš
- d) Gustáv Husák

„Víš, mám pocit, že do té Moskvy jsem odjížděl ještě jako svobodný člověk.“ Mluvil velmi potichu.  
„Ale vrátil jsem se... jako Stalinův lokaj.“

14.Ke které z následujících událostí se vztahují hesla uvedená níže v tabulce?

- a) vydání dokumentu Charta 77
- b) osvobození Československa v květnu 1945
- c) vyhlášení Protektorátu Čechy a Morava
- d) okupace Československa vojsky Varšavské smlouvy

*Ivane, jdi domů!  
Dubčekovi slivovici,  
Brežněvovi šibenici!*

15. Pojmenujte stavby na následujících obrázcích a uveďte, ke kterým státním útvarům se vztahují:



A



B



C

A.....  
B.....  
C.....

16. Komentujte následující mapu:

- a) co znázorňuje.....
- b) z jakého období pochází.....




17. Přiřaďte čísla jednotlivých obrázků k uměleckým slohům:

- a) románský.....
- b) gotický.....
- c) renesance.....
- d) baroko.....




1




2



3



4



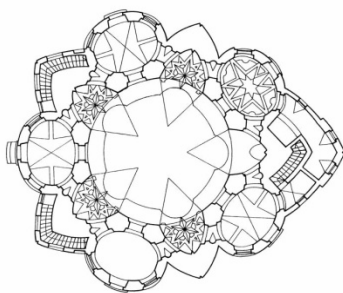
5



6



7



8



9